

Proves d'accés per a majors de 25 i 45 anys
Pruebas de Acceso para mayores de 25 y 45 años

Convocatòria:
Convocatoria:
2023



Assignatura: Geografia
Asignatura: Geografía



Primer bloc: Geografia Física / Primer Bloque: Geografía Física

1. A partir de les fotografies següents:


- Identifiqueu a quin tipus de paisatge vegetal espanyol corresponen.
- Expliqueu-ne de dos les característiques de la vegetació i els factors condicionants d'aquests paisatges.

Valor de la pregunta: 3,33 punts.

1. A partir de las siguientes fotografías:

- Identifique a qué tipo de paisaje vegetales españoles corresponden
- Explique, de dos de ellos, las características de la vegetación y los factores condicionantes de dichos paisajes.

Valor de la pregunta: 3,33 puntos.

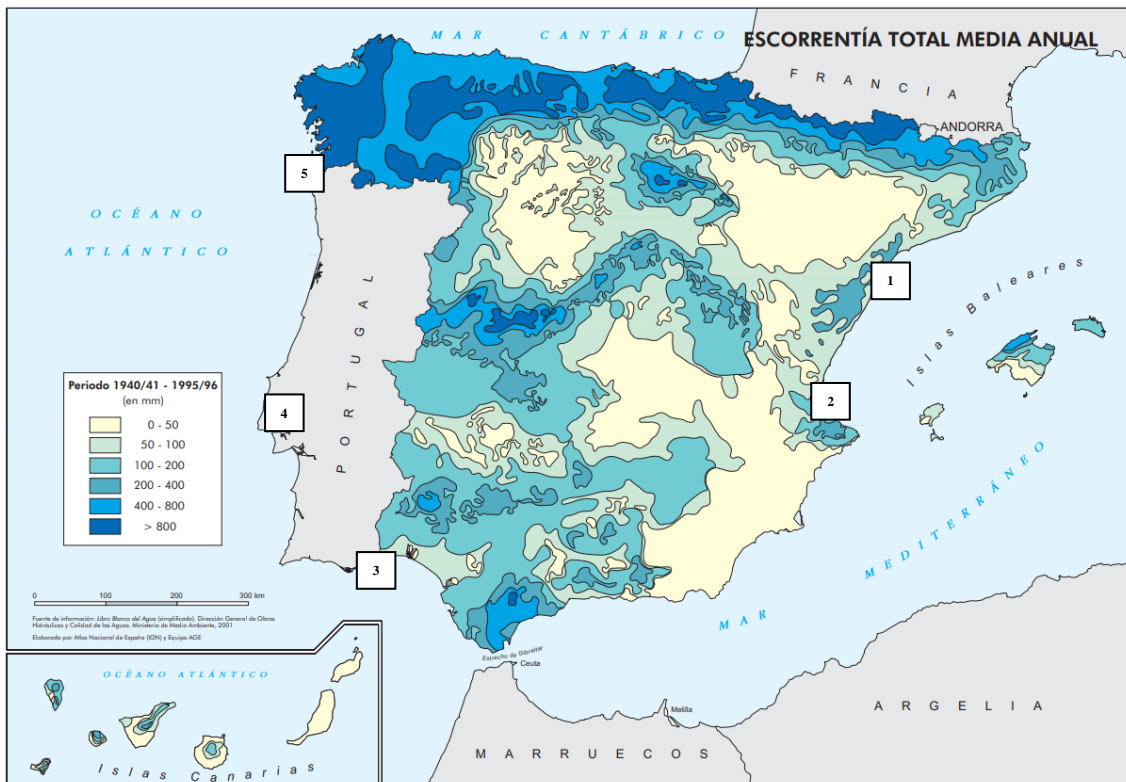


2. La següent figura cartogràfica de l'Institut Geogràfic Nacional representa l'escolament total mitjà anual a Espanya. A partir d'aquesta:

- Indiqueu les característiques dels rius que desemboquen en el vessant cantàbric, atlàntic i mediterrani (sense considerar el riu Ebre).
- Assenyaleu quins rius tenen la desembocadura en els punts numerats en el mapa.
Valor de la pregunta: 3,33 punts.

2. La siguiente figura cartográfica del Instituto Geográfico Nacional representa la escorrentía total media anual en España. A partir de ella:

- Indique las características de los ríos que desembocan en la vertiente cantábrica, en la vertiente atlántica y en la vertiente mediterránea (sin considerar el río Ebro).
- Señale qué ríos tienen la desembocadura en los puntos numerados en el mapa.
Valor de la pregunta: 3,33 puntos.



**Segon bloc: Geografia Humana i Econòmica/
Segundo bloque: Geografía humana y económica**

3. Amb les següents dades de la població espanyola dels anys 1900 i 2021:

ESPANYA 1900

POBLACIÓ TOTAL	18.830.649
NAIXEMENTS	627.448
DEFUNCIONS	536.716

ESPANYA 2021

POBLACIÓ TOTAL	47.615.034
NAIXEMENTS	337.380
DEFUNCIONS	450.774

Font: Institut Nacional d'Estadística (INE)

- Indiqueu la fórmula i calculeu les taxes de natalitat i mortalitat a Espanya en 1900 i 2021.
- Expliqueu les diferències entre el règim demogràfic antic i modern.
Valor de la pregunta: 3,33 punts.

3. Con los siguientes datos de la población española de los años 1900 y 2021:

ESPAÑA 1900

POBLACIÓN TOTAL	18.830.649
NACIMIENTOS	627.448
DEFUNCIONES	536.716

ESPAÑA 2021

POBLACIÓN TOTAL	47.615.034
NACIMIENTOS	337.380
DEFUNCIONES	450.774

Fuente: Instituto Nacional de Estadística (INE)

- Indique la fórmula y calcule las tasas de natalidad y mortalidad en España en 1900 y 2021.
- Explique las diferencias entre el régimen demográfico antiguo y el moderno.
Valor de la pregunta: 3,33 puntos.

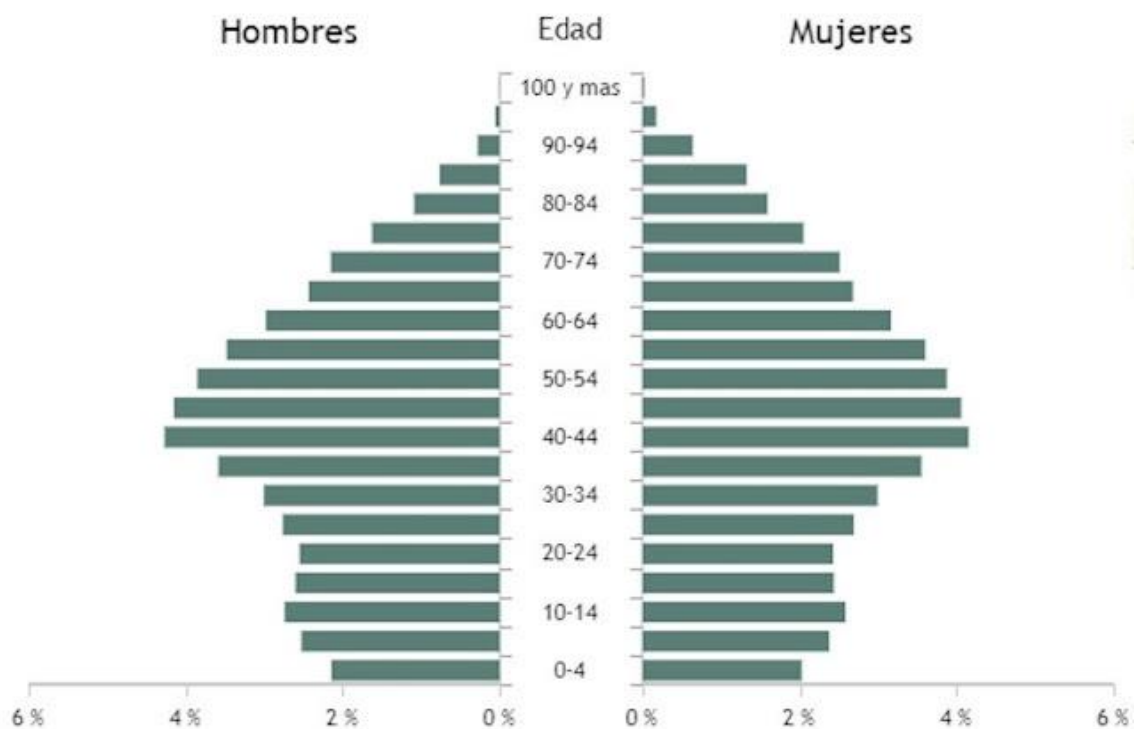
4. Comenteu la piràmide de població d' Espanya de 2021, representada en el gràfic següent, fent referència a l'estructura per sexe i edat i als successos demogràfics; i analitzeu les conseqüències demogràfiques, socials i econòmiques de l'envelliment de la població espanyola.

Valor de la pregunta: 3,33 punts.

4. Comente la pirámide de población de España de 2021, representada en el siguiente gráfico, haciendo referencia a la estructura por sexo y edad y a los sucesos demográficos; y analice las consecuencias demográficas, sociales y económicas del envejecimiento de la población española.

Valor de la pregunta: 3,33 puntos.

PIRÀMIDE DE POBLACIÓ. ESPANYA 2021 / PIRÁMIDE DE POBLACIÓN. ESPAÑA 2021



Font/Fuente: INE